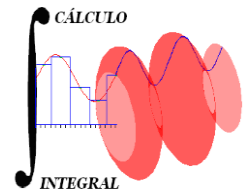




UNIVERSIDAD NACIONAL AUTÓNOMA DE MÉXICO
FACULTAD DE INGENIERÍA
DIVISIÓN DE CIENCIAS BÁSICAS
CÁLCULO INTEGRAL
SEGUNDO EXAMEN EXTRAORDINARIO
1221



*Sinodales: Ing. Héctor Hernández López
Ing. Sergio Carlos Crail Corzas*

27 de octubre de 2016

Semestre 2017-1

INSTRUCCIONES: Leer cuidadosamente los enunciados de los **6 reactivos** que componen el examen antes de empezar a resolverlos. La duración máxima del examen es de **2 horas**.

1. Determinar si la siguiente serie converge o diverge, en caso de ser convergente, calcular su suma.

$$3 + \frac{3}{10} + \frac{3}{100} + \frac{3}{1000} + \dots$$

15 puntos

2. Calcular, si existe, el límite

$$\lim_{x \rightarrow 0^+} (1 + \operatorname{sen} x)^{\cot x}$$

15 puntos

3. Efectuar:

$$a) \int \frac{dx}{\sqrt{1+x} - 1} \quad b) \int \frac{dx}{x \sqrt{x^2 + 4}} \quad c) \int \frac{1+x}{(x-1)(x^2+1)} dx$$

30 Puntos

4. Calcular el volumen del sólido que se genera al hacer girar, alrededor del eje de las abscisas, la región limitada por las gráficas de $y = e^{-x}$, $x = 0$ y $x = -\ln 2$. Hacer la representación gráfica del sólido.

10 Puntos

5. Obtener el recorrido de la función $f(x, y) = e^{-\sqrt{xy-1}}$ y representar gráficamente su dominio.

15 Puntos

6. Calcular la derivada direccional de la función $f(x, y) = y e^{-x}$ en el punto $Q(\ln 2, 1)$ y en la dirección $\alpha = 45^\circ$

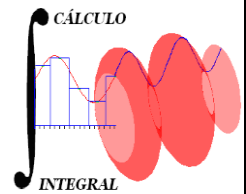
15 Puntos



UNIVERSIDAD NACIONAL AUTÓNOMA DE MÉXICO
FACULTAD DE INGENIERÍA
CÁLCULO INTEGRAL

1221

Solución del Segundo Examen Extraordinario
Semestre 2017 – 1



1.

Sea la serie escrita como

$$\sum_{n=1}^{\infty} \frac{3}{10^{n-1}} \text{ que es geometría con } a = 3 \text{ y } r = \frac{1}{10}$$

Como $r < 1$ la serie converge y su serie es:

$$S_n = \frac{3}{1 - \frac{1}{10}} = \frac{3}{\frac{9}{10}} = \frac{30}{9} = \frac{30 \cdot 10}{3 \cdot 3} = \boxed{\frac{10}{3}}$$

15 puntos

2. La sustitución directa da

$$\text{Sea } y = (1 + \operatorname{sen} x)^{\cot x}$$

$$y = (1 + \operatorname{sen} x)^{\cot x}, \text{ entonces}$$

$\ln y = \cot x \ln(1 + \operatorname{sen} x)$, si aplicamos límite

$$\lim_{x \rightarrow 0^+} [\ln y] = \lim_{x \rightarrow 0^+} \frac{\cos x \ln(1 + \operatorname{sen} x)}{\operatorname{sen} x} = \frac{0}{0} \text{ podemos aplicar L'Hôpital}$$

$$\ln \left[\lim_{x \rightarrow 0^+} \right] = \lim_{x \rightarrow 0^+} \frac{\frac{\cos^2 x}{1 + \operatorname{sen} x} - \operatorname{sen} x \ln(1 + \operatorname{sen} x)}{\cos x} = \frac{1 - 0}{1} = 1$$

por lo que $\lim_{x \rightarrow 0^+} = e^1 \quad \therefore \boxed{\lim_{x \rightarrow 0^+} (1 + \operatorname{sen} x)^{\cot x} = e}$

15 puntos

3. a) Por fracciones parciales

a) Por cambio de variable

Si $u = \sqrt{1+x} \Rightarrow x = u^2 - 1$ de donde $dx = 2u du$

al sustituir la integral queda

$$I = \int \frac{2u}{u-1} du = 2 \int \frac{(u-1+1)}{u-1} du = 2 \int du + 2 \int \frac{du}{u-1}$$

$$\boxed{I = 2\sqrt{1+x} + 2 \ln(\sqrt{1+x} - 1) + C}$$

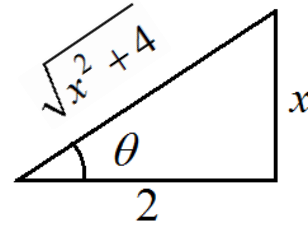
10 puntos
S2EE17-1

b) Por sustitución trigonométrica

$$x = 2 \tan \theta$$

$$\sqrt{x^2 + 4} = 2 \sec \theta$$

$$dx = 2 \sec^2 \theta d\theta$$



$$\text{Entonces } I = \int \frac{2 \sec^2 \theta}{2 \tan \theta \cdot 2 \sec \theta} d\theta = \frac{1}{2} \int \frac{\sec \theta}{\tan \theta} d\theta = \frac{1}{2} \int \frac{d\theta}{\sin \theta}$$

$$I = \frac{1}{2} \int \csc \theta d\theta = -\frac{1}{2} \ln(\csc \theta + \cot \theta) + C$$

$$I = -\frac{1}{2} \ln \left| \frac{\sqrt{4 + x^2} + 2}{x} \right| + C$$

10 puntos

c) Por fracciones parciales

$$\text{Sea } \frac{1+x}{(x-1)(x^2+1)} = \frac{A}{x-1} + \frac{Bx+C}{x^2+1}, \text{ entonces}$$

$$1+x = A(x^2+1) + (Bx+C)(x-1)$$

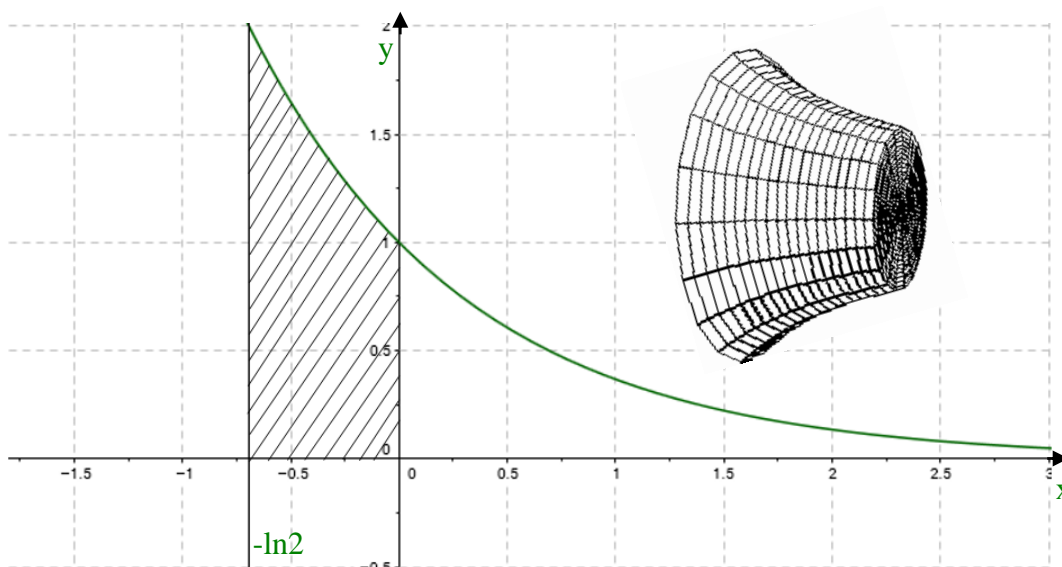
$$\begin{array}{l} \text{Si } x=1 \\ 2 = 2A \\ \boxed{A=1} \end{array} \quad \begin{array}{l} \text{Si } x=0 \\ 1 = 1 - C \\ \boxed{C=0} \end{array} \quad \begin{array}{l} \text{Si } x=-1 \\ 0 = 2 + 2B \\ \boxed{B=-1} \end{array}$$

Por lo que la integral queda

$$I = \int \left(\frac{1}{x-1} + \frac{-x}{x^2+1} \right) dx = \ln|x-1| - \frac{1}{2} \ln|x^2+1| + C$$

$$I = \ln \left| \frac{x-1}{\sqrt{x^2+1}} \right| + C$$

4. Sea el sólido



$$V = \pi \int_{-\ln 2}^0 (e^{-x})^2 dx = -\frac{1}{2} e^{-2x} \Big|_{-\ln 2}^0$$

$$V = -\frac{\pi}{2} [1 - e^{\ln 4}] = \boxed{\frac{3\pi}{2} u^3}$$

10 puntos

5. Sea la región

La gráfica del dominio es:

El recorrido de la función es:

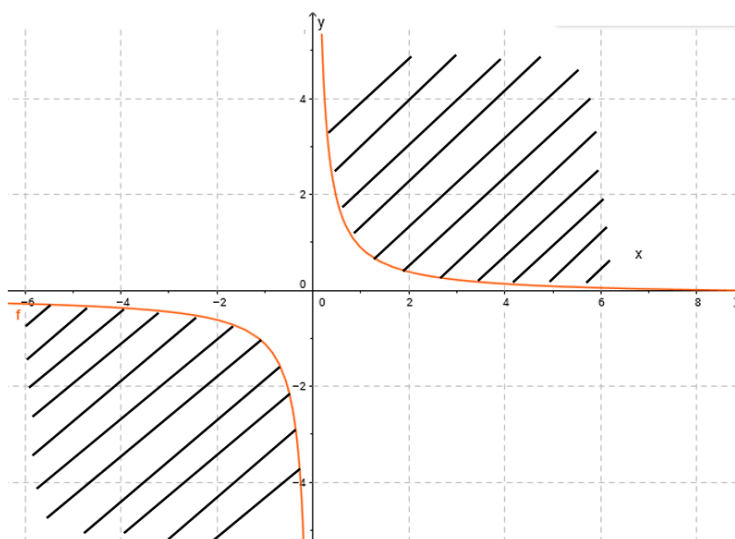
$$R_f = \{f(x, y) \mid f(x, y) \in (0, 1)\}$$

Si

$$xy - 1 \geq 0 \Rightarrow xy \geq 1$$

$$\text{Si } x > 0 \quad \Big\| \quad \text{Si } x < 0$$

$$\Rightarrow y > \frac{1}{x} \quad \Big\| \quad \Rightarrow y < \frac{1}{x}$$



15 puntos

6. Sea

$\nabla f = -ye^{-xi}i + e^{-x}j$, entonces

$$Q(\ln 2, -1) \quad \nabla f|_Q = (e^{-\ln 2}, e^{-\ln 2}) = \left(\frac{1}{2}, \frac{1}{2}\right)$$

$$\frac{df}{ds} = \bar{\nabla} f(\cos \theta, \text{sen} \theta) = \frac{1}{2\sqrt{2}} + \frac{1}{2\sqrt{2}} = \boxed{\frac{1}{\sqrt{2}}}$$